

1. Calcule le nombre d'animaux et de lapins :




Écris comment tu as calculé.

Sens de la multiplication

O Comprendre le sens de la multiplication

1. Pour chaque image, écris la multiplication et son résultat :


2. Colorie les étiquettes qui indiquent le nombre total de tigres :



- $8 + 8 + 8 + 8$
- $4 + 8$
- $4 + 4 + 4 + 4 + 4 + 4 + 4 + 4$
- $8 \times 4$
- 32
- $1 + 1 + 1 + 1$
- $4 \times 8$
- $4 + 4 + 4 + 4$

1. Calcule le nombre d'animaux et de lapins :




Écris comment tu as calculé.

Sens de la multiplication

O Comprendre le sens de la multiplication

1. Pour chaque image, écris la multiplication et son résultat :


2. Colorie les étiquettes qui indiquent le nombre total de tigres :



- $8 + 8 + 8 + 8$
- $4 + 8$
- $4 + 4 + 4 + 4 + 4 + 4 + 4 + 4$
- $8 \times 4$
- 32
- $1 + 1 + 1 + 1$
- $4 \times 8$
- $4 + 4 + 4 + 4$

1. Calcule le nombre d'animaux et de lapins :




Écris comment tu as calculé.

Sens de la multiplication

O Comprendre le sens de la multiplication

1. Pour chaque image, écris la multiplication et son résultat :


2. Colorie les étiquettes qui indiquent le nombre total de tigres :



- $8 + 8 + 8 + 8$
- $4 + 8$
- $4 + 4 + 4 + 4 + 4 + 4 + 4 + 4$
- $8 \times 4$
- 32
- $1 + 1 + 1 + 1$
- $4 \times 8$
- $4 + 4 + 4 + 4$