

O Ordonner et ranger des nombres jusqu'à 999

1. Complète avec < ou > :

45 70 649 642 384 196 476 602
89 98 386 368 713 731 805 850


2. Range ces nombres dans l'ordre croissant :

391 - 548 - 584 - 609 - 416 - 539 - 200 - 550

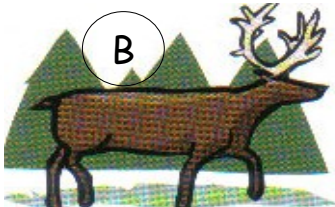
3. Range ces nombres dans l'ordre décroissant :

234 - 724 - 342 - 324 - 423


4. Classe ces animaux du plus léger au plus lourd. Utilise les lettres :



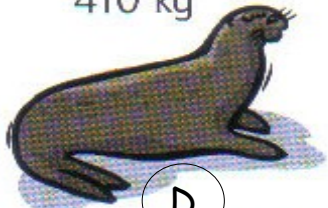
un bœuf musqué :
410 kg



un renne : 250 kg




une otarie : 270 kg



un phoque : 290 kg



un ours : 790 kg



un morse : 930 kg

5. Parmi ces nombres, colorie en vert le plus petit et en bleu le plus grand : (Écris le nombre caché sur les pointillés pour t'aider)

1c6u 753 5d7u
82d5u 607u 8c9d

O Ordonner et ranger des nombres jusqu'à 999

1. Complète avec < ou > :

45 70 649 642 384 196 476 602
89 98 386 368 713 731 805 850


2. Range ces nombres dans l'ordre croissant :

391 - 548 - 584 - 609 - 416 - 539 - 200 - 550

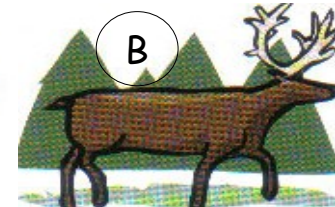
3. Range ces nombres dans l'ordre décroissant :

234 - 724 - 342 - 324 - 423


4. Classe ces animaux du plus léger au plus lourd. Utilise les lettres :



un bœuf musqué :
410 kg



un renne : 250 kg




une otarie : 270 kg



un phoque : 290 kg



un ours : 790 kg



un morse : 930 kg

5. Parmi ces nombres, colorie en vert le plus petit et en bleu le plus grand : (Écris le nombre caché sur les pointillés pour t'aider)

1c6u 753 5d7u
82d5u 607u 8c9d

Devoirs pour le :

a) Mets le signe qui convient (< ou >) :

719...800	401...450
559...595	982...892
356...365	806...816
654...565	590...509

b) Ecris tous les nombres que tu peux former avec 3, 4 et 6 (Tu dois trouver 6 nombres)

.....

Classe ces 6 nombres dans l'ordre croissant :

.....

Devoirs pour le :

a) Mets le signe qui convient (< ou >) :

719...800	401...450
559...595	982...892
356...365	806...816
654...565	590...509

b) Ecris tous les nombres que tu peux former avec 3, 4 et 6 (Tu dois trouver 6 nombres)

.....

Classe ces 6 nombres dans l'ordre croissant :

.....

Devoirs pour le :

a) Mets le signe qui convient (< ou >) :

719...800	401...450
559...595	982...892
356...365	806...816
654...565	590...509

b) Ecris tous les nombres que tu peux former avec 3, 4 et 6 (Tu dois trouver 6 nombres)

.....

Classe ces 6 nombres dans l'ordre croissant :

.....

Devoirs pour le :

a) Mets le signe qui convient (< ou >) :

719...800	401...450
559...595	982...892
356...365	806...816
654...565	590...509

b) Ecris tous les nombres que tu peux former avec 3, 4 et 6 (Tu dois trouver 6 nombres)

.....

Classe ces 6 nombres dans l'ordre croissant :

.....

Devoirs pour le :

a) Mets le signe qui convient (< ou >) :

719...800	401...450
559...595	982...892
356...365	806...816
654...565	590...509

b) Ecris tous les nombres que tu peux former avec 3, 4 et 6 (Tu dois trouver 6 nombres)

.....

Classe ces 6 nombres dans l'ordre croissant :

.....

Devoirs pour le :

a) Mets le signe qui convient (< ou >) :

719...800	401...450
559...595	982...892
356...365	806...816
654...565	590...509

b) Ecris tous les nombres que tu peux former avec 3, 4 et 6 (Tu dois trouver 6 nombres)

.....

Classe ces 6 nombres dans l'ordre croissant :

.....