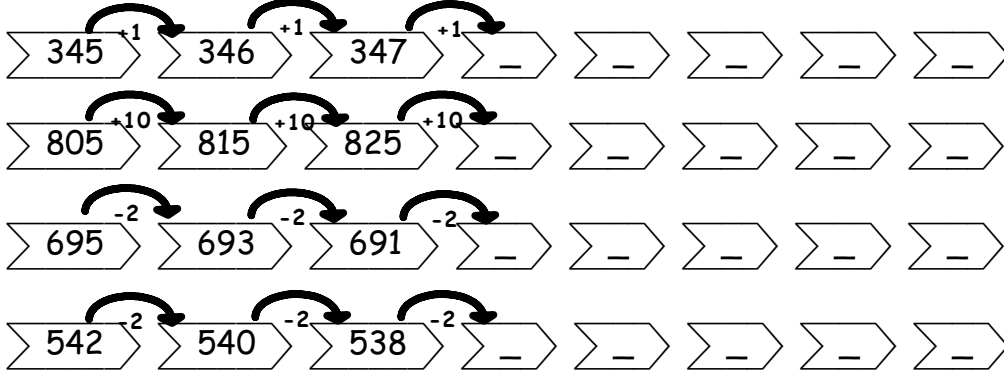
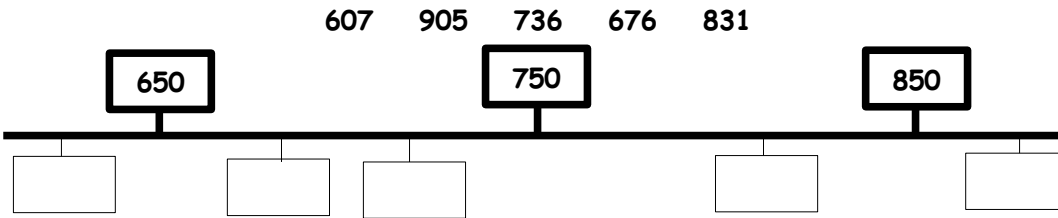


O Placer un nombre sur une droite numérique

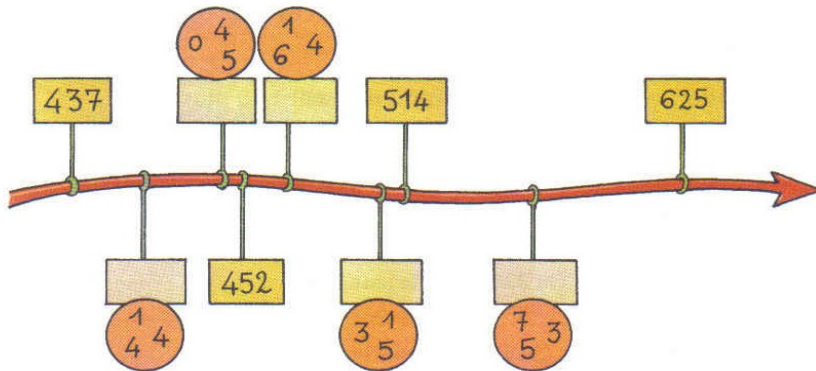
1. Complète les suites de nombres :



2. Écris chacun des nombres suivants à la place qui convient :

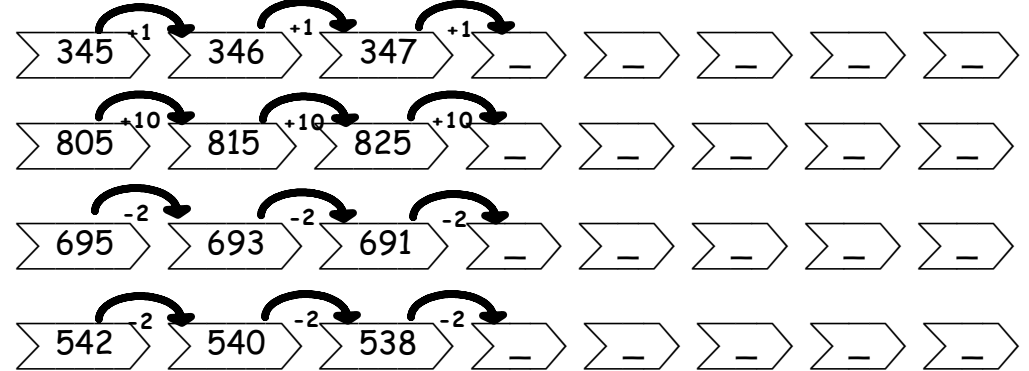


3. Écris les nombres à leur place dans les cases en utilisant les chiffres donnés :

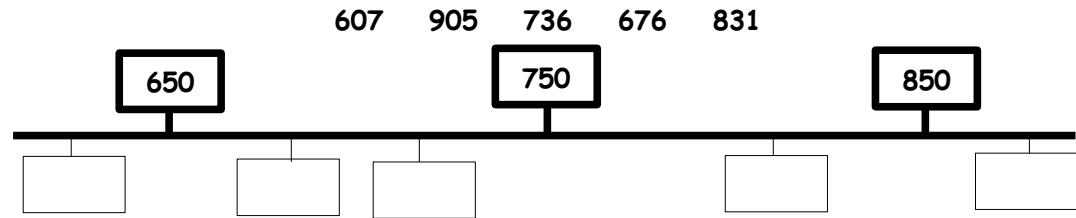


O Placer un nombre sur une droite numérique

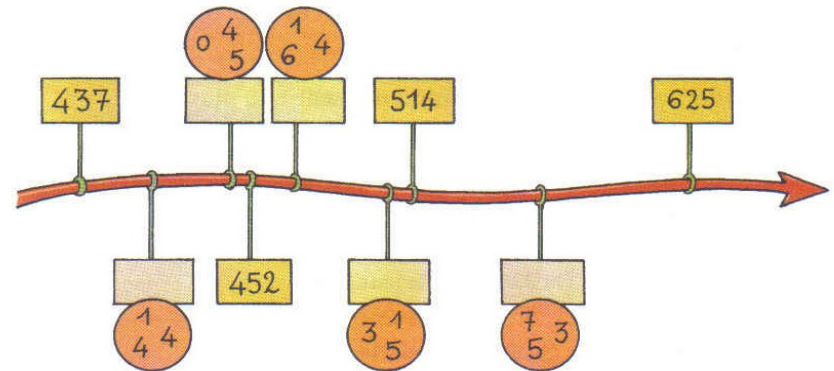
1. Complète les suites de nombres :



2. Écris chacun des nombres suivants à la place qui convient :




3. Écris les nombres à leur place dans les cases en utilisant les chiffres donnés :




4. Place et écris les nombres sur la droite numérique quand c'est possible :

106 163 601 176 157 167 611



340 750 120 60 890 1 010 932



4. Place et écris les nombres sur la droite numérique quand c'est possible :

106 163 601 176 157 167 611




340 750 120 60 890 1 010 932



4. Place et écris les nombres sur la droite numérique quand c'est possible :

106 163 601 176 157 167 611




340 750 120 60 890 1 010 932



4. Place et écris les nombres sur la droite numérique quand c'est possible :

106 163 601 176 157 167 611



340 750 120 60 890 1 010 932

