

1. Observe les vélos et réponds aux questions :

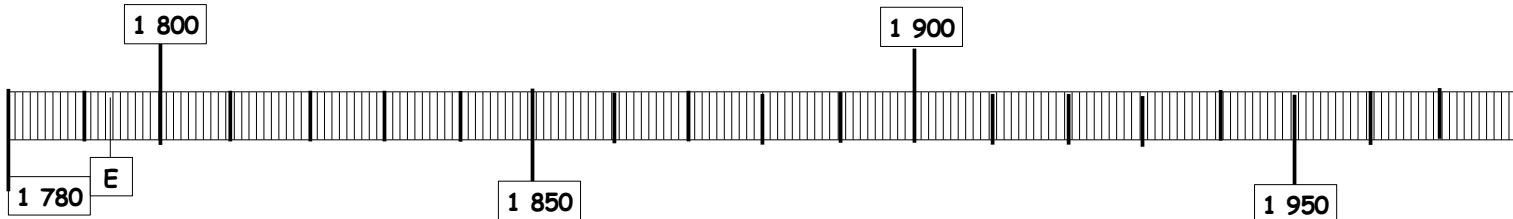
Classe ces vélos du plus ancien au plus récent :

E Le célérifère			A Le grand bi		
-----------------	--	--	---------------	--	--








Range les dates d'invention dans l'ordre décroissant :

1 979					1 784
-------	--	--	--	--	-------

Observe cette frise et place la lettre de chaque vélo selon leur apparition, comme dans l'exemple :



✂ Découpe les vélos et colle-les dans l'ordre sur ton cahier bleu.

 A Le grand bi A 1 869	 B La draisienne B 1816	 C La bicyclette C 1 880	 D Le tandem D 1 891	 E Le célérifère E 1 784	 F Le vélocipède F 1 829	 G Le VTT G 1 979
--	--	---	---	--	---	--

1. Observe les vélos et réponds aux questions :

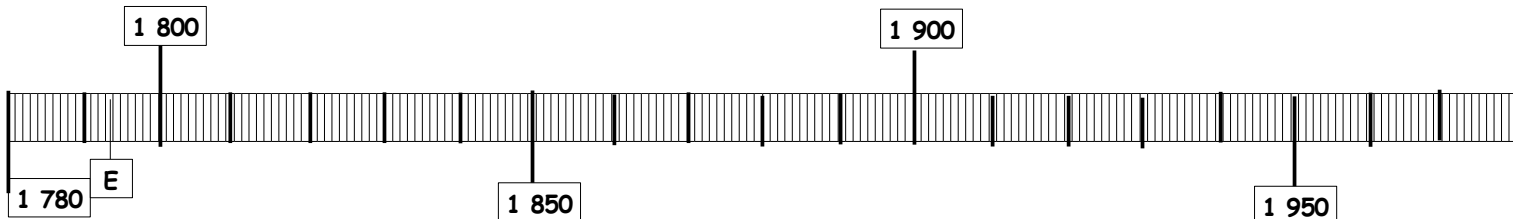
Classe ces vélos du plus ancien au plus récent :

E Le célérifère			A Le grand bi		
-----------------	--	--	---------------	--	--








Range les dates d'invention dans l'ordre décroissant :

1 979					1 784
-------	--	--	--	--	-------

Observe cette frise et place la lettre de chaque vélo selon leur apparition, comme dans l'exemple :



✂ Découpe les vélos et colle-les dans l'ordre sur ton cahier bleu.

 A Le grand bi A 1 869	 B La draisienne B 1816	 C La bicyclette C 1 880	 D Le tandem D 1 891	 E Le célérifère E 1 784	 F Le vélocipède F 1 829	 G Le VTT G 1 979
--	--	---	---	--	---	--

2. Place les dates de création des courses sur l'axe du temps :

1 927 Championnat du monde(M)	1 903 Tour de France (F)	1 891 Paris Bordeaux (P)	1 935 Tour d'Espagne(E)	1 932 Grand prix des Nations (N)
----------------------------------	-----------------------------	-----------------------------	----------------------------	-------------------------------------

