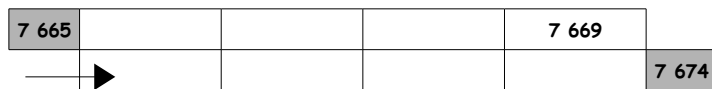


Les nombres jusqu'à 9 999

1	2
3	

O Trouver le prédécesseur et le successeur d'un nombre

1. Complète la bande numérique suivante :



2. Complète maintenant le tableau suivant :

Aide toi de la bande numérique du haut si tu en as besoin.

Avant le nombre	Nombre	Après le nombre
	7 666	
	7 671	
	7 670	
	7 673	
	7 669	

3. Souligne les bons nombres qui viennent avant et après le nombre entouré :

2 048 - 3 047 - 3 038 (3 048) 4 048 - 3 148 - 3 049 - 3 058

1 580 - 1 570 - 1 679 (1 680) 2 680 - 1 681 - 1 780 - 1 690

2 500 - 2 400 - 1 500 (2 501) 2 502 - 3 501 - 2 601 - 2 511

5 279 - 4 379 - 5 378 (5 379) 6 379 - 5 479 - 5 380 - 5 389

8 878 - 8 888 - 8 788 (8 889) 9 000 - 8 900 - 8 890

4. Trouve les nombres qui te sont demandés :

Avant 3 920 : Après 7 059 :

Avant 340 : Après 5 000 :

Avant 9 872 : Après 4 360 :

Avant 4 567 : Après 7 902 :

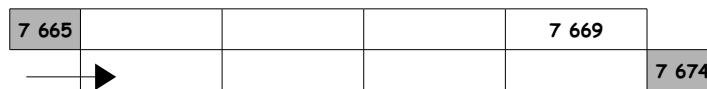
Avant 5 678 : Après 379 :

Les nombres jusqu'à 9 999

1	2
3	

O Trouver le prédécesseur et le successeur d'un nombre

1. Complète la bande numérique suivante :



2. Complète maintenant le tableau suivant :

Aide toi de la bande numérique du haut si tu en as besoin.

Avant le nombre	Nombre	Après le nombre
	7 666	
	7 671	
	7 670	
	7 673	
	7 669	

3. Souligne les bons nombres qui viennent avant et après le nombre entouré :

2 048 - 3 047 - 3 038 (3 048) 4 048 - 3 148 - 3 049 - 3 058

1 580 - 1 570 - 1 679 (1 680) 2 680 - 1 681 - 1 780 - 1 690

2 500 - 2 400 - 1 500 (2 501) 2 502 - 3 501 - 2 601 - 2 511

5 279 - 4 379 - 5 378 (5 379) 6 379 - 5 479 - 5 380 - 5 389

8 878 - 8 888 - 8 788 (8 889) 9 000 - 8 900 - 8 890

4. Trouve les nombres qui te sont demandés :

Avant 3 920 : Après 7 059 :

Avant 340 : Après 5 000 :

Avant 9 872 : Après 4 360 :

Avant 4 567 : Après 7 902 :


Avant 5 678 : Après 379 :

Les nombres jusqu'à 9 999

1	2
3	

O Trouver le prédécesseur et le successeur d'un nombre

1. Complète la bande numérique suivante :



2. Complète maintenant le tableau suivant :

Aide toi de la bande numérique du haut si tu en as besoin.

Avant le nombre	Nombre	Après le nombre
	7 666	
	7 671	
	7 670	
	7 673	
	7 669	

3. Souligne les bons nombres qui viennent avant et après le nombre entouré :

2 048 - 3 047 - 3 038 (3 048) 4 048 - 3 148 - 3 049 - 3 058

1 580 - 1 570 - 1 679 (1 680) 2 680 - 1 681 - 1 780 - 1 690

2 500 - 2 400 - 1 500 (2 501) 2 502 - 3 501 - 2 601 - 2 511

5 279 - 4 379 - 5 378 (5 379) 6 379 - 5 479 - 5 380 - 5 389

8 878 - 8 888 - 8 788 (8 889) 9 000 - 8 900 - 8 890

4. Trouve les nombres qui te sont demandés :

Avant 3 920 : Après 7 059 :

Avant 340 : Après 5 000 :

Avant 9 872 : Après 4 360 :

Avant 4 567 : Après 7 902 :

Avant 5 678 : Après 379 :