
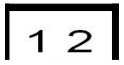


Numération	NumSuit1 	
Continuer des suites de nombres		

1. Compte de 50 en 50 jusqu'à 800 :


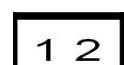
50 - 100 - 150

2. Compte de 25 en 25 jusqu'à 600 :

50 - 75 - 100

3. Continue la suite :

42 345 - 42 34642 363

Numération	NumSuit1 	
Continuer des suites de nombres		

1. Compte de 50 en 50 jusqu'à 800 :


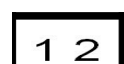
50 - 100 - 150

2. Compte de 25 en 25 jusqu'à 600 :

50 - 75 - 100

3. Continue la suite :

42 345 - 42 34642 363

Numération	NumSuit1 	
Continuer des suites de nombres		

1. Compte de 50 en 50 jusqu'à 800 :



50 - 100 - 150

2. Compte de 25 en 25 jusqu'à 600 :

50 - 75 - 100

3. Continue la suite :

42 345 - 42 34642 363

Numération	NumSuit1 	
Continuer des suites de nombres		

1. Compte de 50 en 50 jusqu'à 800 :



50 - 100 - 150

2. Compte de 25 en 25 jusqu'à 600 :

50 - 75 - 100

3. Continue la suite :

42 345 - 42 34642 363

Numération	NumSuit1 	
Continuer des suites de nombres		

1. Compte de 50 en 50 jusqu'à 800 :



50 - 100 - 150

2. Compte de 25 en 25 jusqu'à 600 :

50 - 75 - 100

3. Continue la suite :

42 345 - 42 34642 363

Numération	NumSuit1 	
Continuer des suites de nombres		

1. Compte de 50 en 50 jusqu'à 800 :


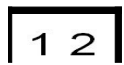
50 - 100 - 150

2. Compte de 25 en 25 jusqu'à 600 :

50 - 75 - 100

3. Continue la suite :

42 345 - 42 34642 363

Numération	NumSuit1 	
Continuer des suites de nombres		

1. Compte de 50 en 50 jusqu'à 800 :


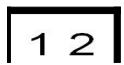
50 - 100 - 150

2. Compte de 25 en 25 jusqu'à 600 :

50 - 75 - 100

3. Continue la suite :

42 345 - 42 34642 363

Numération	NumSuit1 	
Continuer des suites de nombres		

1. Compte de 50 en 50 jusqu'à 800 :



50 - 100 - 150

2. Compte de 25 en 25 jusqu'à 600 :

50 - 75 - 100

3. Continue la suite :

42 345 - 42 34642 363

Numération	NumSuit1 	
Continuer des suites de nombres		

1. Compte de 50 en 50 jusqu'à 800 :

50 - 100 - 150

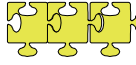
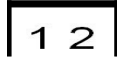
2. Compte de 25 en 25 jusqu'à 600 :

50 - 75 - 100

3. Continue la suite :

42 345 - 42 34642 3631.

Numération	NumSuit3 	
Continuer des suites de nombres		

Numération	NumSuit3 	
Continuer des suites de nombres		

1. Continue les suites de nombres :

356	353	350	347				
217	227	237	247				
461	451	441	431				
105	110	115	120				
535	538	541	544				

2. Complète le compteur :

4	9	9	7
4	9	9	8

3. Place ces nombres au bon endroit :

250 - 128 - 32 - 365 - 825 - 600 - 484 - 714 - 543 - 92
 _____ 100 _____ 300 _____ 700 _____

1. Continue les suites de nombres :

356	353	350	347				
217	227	237	247				
461	451	441	431				
105	110	115	120				
535	538	541	544				

2. Complète le compteur :

4	9	9	7
4	9	9	8

3. Place ces nombres au bon endroit :

250 - 128 - 32 - 365 - 825 - 600 - 484 - 714 - 543 - 92
 _____ 100 _____ 300 _____ 700 _____