




Numération	NumLiA1 	<table border="1"><tr><td>1 2</td></tr><tr><td>3</td></tr></table>	1 2	3
1 2				
3				
Lire et écrire les nombres				

Numération	NumLiA1 	<table border="1"><tr><td>1 2</td></tr><tr><td>3</td></tr></table>	1 2	3
1 2				
3				
Lire et écrire les nombres				

Numération	NumLiA1 	<table border="1"><tr><td>1 2</td></tr><tr><td>3</td></tr></table>	1 2	3
1 2				
3				
Lire et écrire les nombres				

Écris les nombres en lettres :


12 854
26 070
45 900
74 001


Écris les nombres en lettres :


12 854
26 070
45 900
74 001

Écris les nombres en lettres :

12 854
26 070
45 900
74 001

Numération	NumLiA1 	<table border="1"><tr><td>1 2</td></tr><tr><td>3</td></tr></table>	1 2	3
1 2				
3				
Lire et écrire les nombres				

Numération	NumLiA1 	<table border="1"><tr><td>1 2</td></tr><tr><td>3</td></tr></table>	1 2	3
1 2				
3				
Lire et écrire les nombres				

Numération	NumLiA1 	<table border="1"><tr><td>1 2</td></tr><tr><td>3</td></tr></table>	1 2	3
1 2				
3				
Lire et écrire les nombres				

Écris les nombres en lettres :


12 854
26 070
45 900
74 001


Écris les nombres en lettres :


12 854
26 070
45 900
74 001

Écris les nombres en lettres :

12 854
26 070
45 900
74 001

Numération	NumLiA1 	<table border="1"><tr><td>1 2</td></tr><tr><td>3</td></tr></table>	1 2	3
1 2				
3				
Lire et écrire les nombres				

Numération	NumLiA1 	<table border="1"><tr><td>1 2</td></tr><tr><td>3</td></tr></table>	1 2	3
1 2				
3				
Lire et écrire les nombres				

Numération	NumLiA1 	<table border="1"><tr><td>1 2</td></tr><tr><td>3</td></tr></table>	1 2	3
1 2				
3				
Lire et écrire les nombres				

Écris les nombres en lettres :


12 854
26 070
45 900
74 001

Écris les nombres en lettres :

12 854
26 070
45 900
74 001

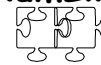
Écris les nombres en lettres :

12 854
26 070
45 900
74 001

Numération	NumLiA2 	<table border="1"><tr><td>1</td><td>2</td></tr><tr><td colspan="2">3</td></tr></table>	1	2	3	
1	2					
3						
Lire et écrire les nombres						

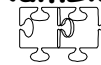
Écris les nombres en chiffres :

Vingt-cinq mille cent deux
Trente mille douze
Quarante mille huit
Douze mille sept cent trente-deux

Numération	NumLiA2 	<table border="1"><tr><td>1</td><td>2</td></tr><tr><td colspan="2">3</td></tr></table>	1	2	3	
1	2					
3						
Lire et écrire les nombres						

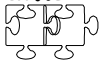
Écris les nombres en chiffres :

Vingt-cinq mille cent deux
Trente mille douze
Quarante mille huit
Douze mille sept cent trente-deux

Numération	NumLiA2 	<table border="1"><tr><td>1</td><td>2</td></tr><tr><td colspan="2">3</td></tr></table>	1	2	3	
1	2					
3						
Lire et écrire les nombres						

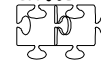
Écris les nombres en chiffres :

Vingt-cinq mille cent deux
Trente mille douze
Quarante mille huit
Douze mille sept cent trente-deux

Numération	NumLiA2 	<table border="1"><tr><td>1</td><td>2</td></tr><tr><td colspan="2">3</td></tr></table>	1	2	3	
1	2					
3						
Lire et écrire les nombres						

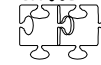
Écris les nombres en chiffres :

Vingt-cinq mille cent deux
Trente mille douze
Quarante mille huit
Douze mille sept cent trente-deux

Numération	NumLiA2 	<table border="1"><tr><td>1</td><td>2</td></tr><tr><td colspan="2">3</td></tr></table>	1	2	3	
1	2					
3						
Lire et écrire les nombres						


Écris les nombres en chiffres :

Vingt-cinq mille cent deux
Trente mille douze
Quarante mille huit
Douze mille sept cent trente-deux

Numération	NumLiA2 	<table border="1"><tr><td>1</td><td>2</td></tr><tr><td colspan="2">3</td></tr></table>	1	2	3	
1	2					
3						
Lire et écrire les nombres						

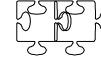
Écris les nombres en chiffres :

Vingt-cinq mille cent deux
Trente mille douze
Quarante mille huit
Douze mille sept cent trente-deux

Numération	NumLiA2 	<table border="1"><tr><td>1</td><td>2</td></tr><tr><td colspan="2">3</td></tr></table>	1	2	3	
1	2					
3						
Lire et écrire les nombres						

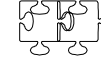
Écris les nombres en chiffres :

Vingt-cinq mille cent deux
Trente mille douze
Quarante mille huit
Douze mille sept cent trente-deux

Numération	NumLiA2 	<table border="1"><tr><td>1</td><td>2</td></tr><tr><td colspan="2">3</td></tr></table>	1	2	3	
1	2					
3						
Lire et écrire les nombres						

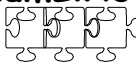
Écris les nombres en chiffres :

Vingt-cinq mille cent deux
Trente mille douze
Quarante mille huit
Douze mille sept cent trente-deux

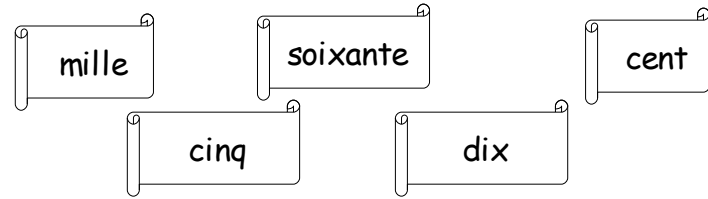
Numération	NumLiA2 	<table border="1"><tr><td>1</td><td>2</td></tr><tr><td colspan="2">3</td></tr></table>	1	2	3	
1	2					
3						
Lire et écrire les nombres						

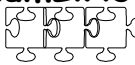
Écris les nombres en chiffres :

Vingt-cinq mille cent deux
Trente mille douze
Quarante mille huit
Douze mille sept cent trente-deux

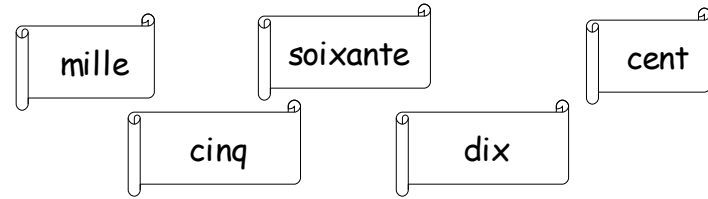
Numération	NumLiA3 	<table border="1"><tr><td>1</td><td>2</td></tr><tr><td colspan="2">3</td></tr></table>	1	2	3	
1	2					
3						
Lire et écrire les nombres						

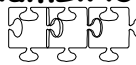
Écris en lettres 5 nombres comportant chacun de tous les mots suivants :



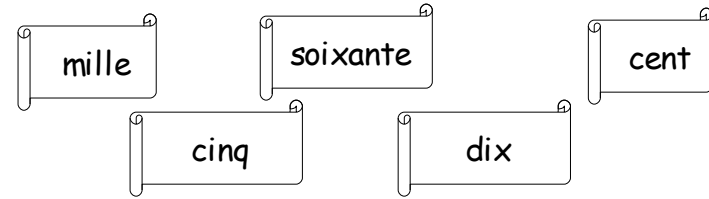
Numération	NumLiA3 	<table border="1"><tr><td>1</td><td>2</td></tr><tr><td colspan="2">3</td></tr></table>	1	2	3	
1	2					
3						
Lire et écrire les nombres						

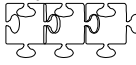
Écris en lettres 5 nombres comportant chacun de tous les mots suivants :




Numération	NumLiA3 	<table border="1"><tr><td>1</td><td>2</td></tr><tr><td colspan="2">3</td></tr></table>	1	2	3	
1	2					
3						
Lire et écrire les nombres						

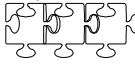
Écris en lettres 5 nombres comportant chacun de tous les mots suivants :



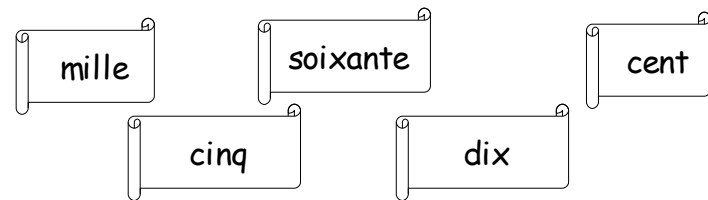
Numération	NumLiA3 	<table border="1"><tr><td>1</td><td>2</td></tr><tr><td colspan="2">3</td></tr></table>	1	2	3	
1	2					
3						
Lire et écrire les nombres						

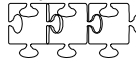
Écris en lettres 5 nombres comportant chacun de tous les mots suivants :



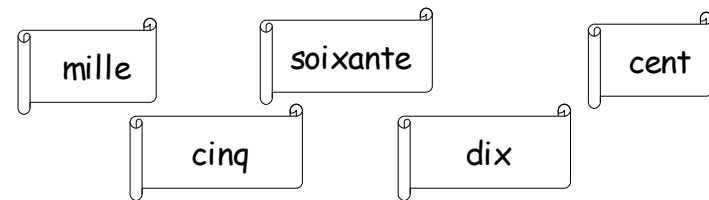
Numération	NumLiA3 	<table border="1"><tr><td>1</td><td>2</td></tr><tr><td colspan="2">3</td></tr></table>	1	2	3	
1	2					
3						
Lire et écrire les nombres						

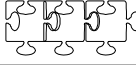
Écris en lettres 5 nombres comportant chacun de tous les mots suivants :




Numération	NumLiA3 	<table border="1"><tr><td>1</td><td>2</td></tr><tr><td colspan="2">3</td></tr></table>	1	2	3	
1	2					
3						
Lire et écrire les nombres						

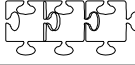
Écris en lettres 5 nombres comportant chacun de tous les mots suivants :



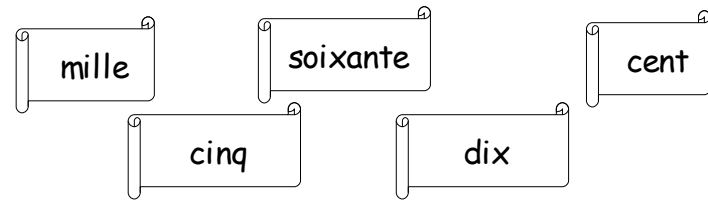
Numération	NumLiA3 	<table border="1"><tr><td>1</td><td>2</td></tr><tr><td colspan="2">3</td></tr></table>	1	2	3	
1	2					
3						
Lire et écrire les nombres						

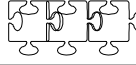
Écris en lettres 5 nombres comportant chacun de tous les mots suivants :



Numération	NumLiA3 	<table border="1"><tr><td>1</td><td>2</td></tr><tr><td colspan="2">3</td></tr></table>	1	2	3	
1	2					
3						
Lire et écrire les nombres						

Écris en lettres 5 nombres comportant chacun de tous les mots suivants :



Numération	NumLiA3 	<table border="1"><tr><td>1</td><td>2</td></tr><tr><td colspan="2">3</td></tr></table>	1	2	3	
1	2					
3						
Lire et écrire les nombres						

Écris en lettres 5 nombres comportant chacun de tous les mots suivants :

